

221: KLEINSTE GEMEENSCHAPPELIJK MEERVOUD (KLEINSTE GEMEEN VEELVOUD – KGV) van 2 getallen (nieuwe leerstof).

UITLEG

Schrijf de tafels van vermenigvuldiging op. Omcirkel de gemeenschappelijke veelvouden. Geef het kleinste gemeen veelvoud een kleur.

6														
9														
8														
12														
9														
12														
4														
5														
2														
3														

222: BREUKEN + - X : (herhaling) Schrijf zelf de breuken op met een horizontale breukstreep.

$2\frac{3}{5} + x: 1\frac{3}{5}$

UITLEG

+	
-	
X	
:	

223: DE GROOTSTE GEMENE DELER ZOEKEN: 1e methode (herhaling).

UITLEG

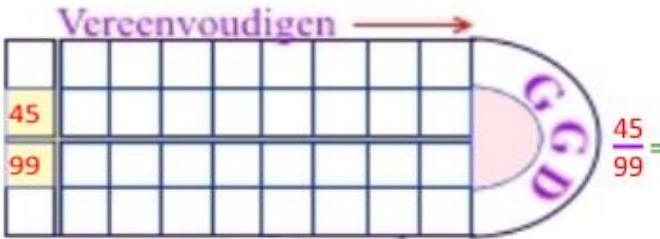
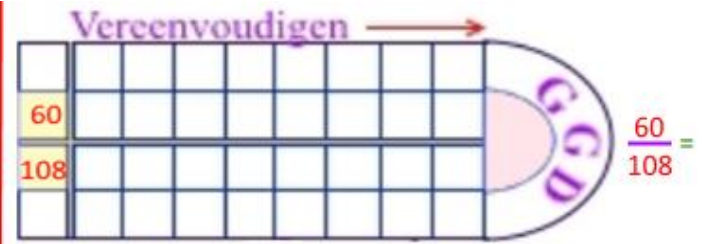
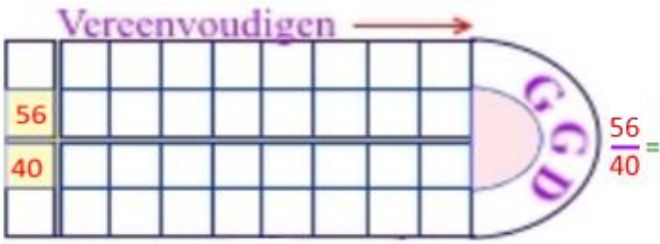
Zoek alle delers van de getallen. Omcirkel de gemeenschappelijke delers. Zet de grootste deler in de rechthoek tussen de twee getallen. (herhaling).

56	40	60	108	45	99	42	54

224: DE GROOTSTE GEMENE DELER ZOEKEN: 2e methode (herhaling).

UITLEG

Zet de priemfactoren van het ene getal boven de horizontale lijn, die van het andere getal onder de horizontale lijn.



225: COMBINATIECIJFEREN (herhaling)

UITLEG

Let op de einduitkomst: wat valt er op?

AFRONDEN OP EENHEDEN

226: BREUKEN VEREENVOUDIGEN (herhaling)

$$\frac{420}{540} = \frac{504}{864} = \frac{4320}{3360} =$$

227: DEELBAARHEID (herhaling)

Deelbaar door →	2	3	4	5	6	7	8	9	10	11	12	15	18	25	100
222.222															

228: REKENDICTEE "LENTEBLOEIERS" De gedicteerde tekst staat in het groen.

In bloemenwinkels en tuincentra kun je nu volop lentebloeiers kopen: krokussen, hyacinten, narcissen, sneeuwkllokjes, blauw druifje en anemonen. In de herfst kun je ze echter als bloembollen kopen en beleef je nu plezier aan een bloeiende tuin. Hoeveel heeft Lotus, tuinierster met groene vingers, betaald voor onderstaande bestelling?

3 x krokus, 6 x hyacint, 2 x narcis, 1 x sneeuwkllokje en 2 x anemoon.

Hoeveel bloembollen heeft Lotus besteld? →

Hoeveel moet Lotus betalen? →

Wat is de gemiddelde prijs van een bloembol? (Zet de euro's eerst om in centen en deel dan door het aantal bloembollen). →

Lotus betaalde met 2 briefjes van 50 euro. Hoeveel kreeg ze terug als wisselgeld? →



Krokus Grootbloemig Gemengd
20 krokusbollen
€ 4.95



Hyacinten blauw
5 hyacintenbollen
€ 3.95 € 2.95



Narcissen Tete a Tete
30 narcissenbollen
€ 12.95 € 7.95



Galanthus Elwesii
100 sneeuwkllokjes bollen
€ 20.95



Anemoon gemengd
30 gemengde bloembollen
€ 9.95 € 5.95

229: DE TAFELS VAN 2 EN 4 ANDERS BEKEKEN *(nieuwe leerstof)*

UITLEG

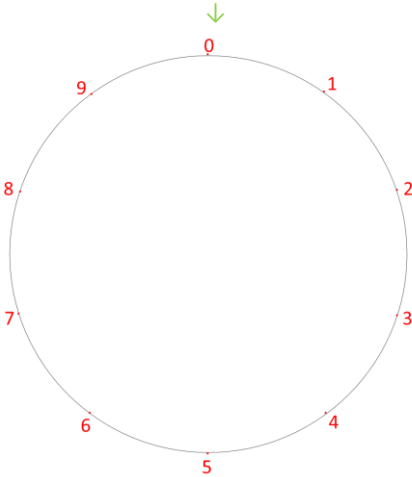
Schrijf de tafel van 2 op. Schrijf alleen de cijfers van de eenheden op.

--	--	--	--	--	--	--	--	--	--	--	--	--	--	--	--	--	--	--	--	--	--

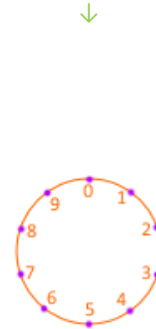
Verbind de cijfers van de eenheden met boogjes boven de cijfers.

- 1
- 2
- 3
- 4
- 5
- 6
- 7
- 8
- 9
- 0

Verbind de cijfers van de eenheden met lijnen binnen de cirkel



Verbind de cijfers van de eenheden met boogjes buiten de cirkel



Waar vind je de tafel van 2 in de natuur of in de omgeving?

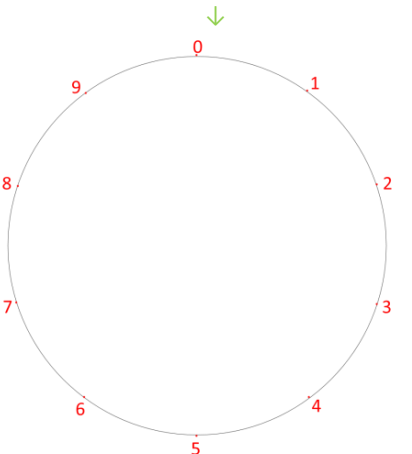
Schrijf de tafel van 4 op. Schrijf alleen de cijfers van de eenheden op.

--	--	--	--	--	--	--	--	--	--	--	--	--	--	--	--	--	--	--	--	--	--

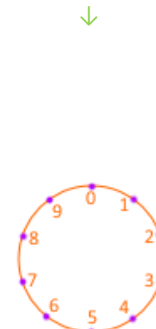
Verbind de cijfers van de eenheden met boogjes boven de cijfers.

- 1
- 2
- 3
- 4
- 5
- 6
- 7
- 8
- 9
- 0

Verbind de cijfers van de eenheden met lijnen binnen de cirkel



Verbind de cijfers van de eenheden met boogjes buiten de cirkel



Waar vind je de tafel van 4 in de natuur of in de omgeving?

230: VAN ZESSTER TOT VIJFSTER *(nieuwe leerstof)*

UITLEG

